
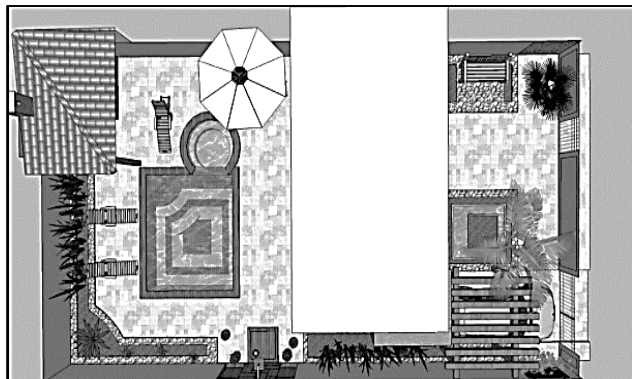


GEOGRAFIA
ATIVIDADE DE FIXAÇÃO

1- Observe as imagens e responda.



a) Que elementos da moradia se destacam na imagem da casa vista de frente?

b) Que elementos da moradia se destacam na imagem da casa vista do alto?

2- Ligue o profissional ao que ele faz na construção de uma moradia.



Responsável pelo da construção.

Responsável pela instalação dos canos.



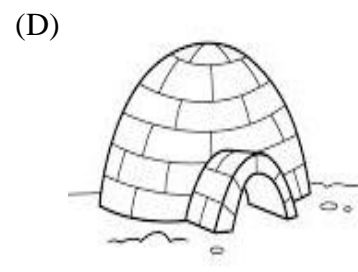
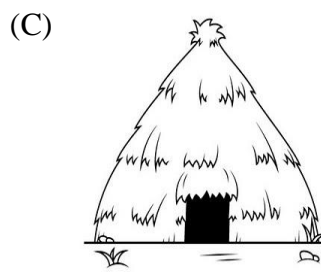

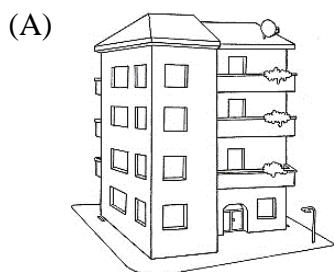
Responsável por executar os serviços de construção.



Responsável por pintar a construção depois de pronta.



3- Relacione as imagens ao tipo de moradia.



() Palafitas

() Iglu

() Apartamento

() Oca