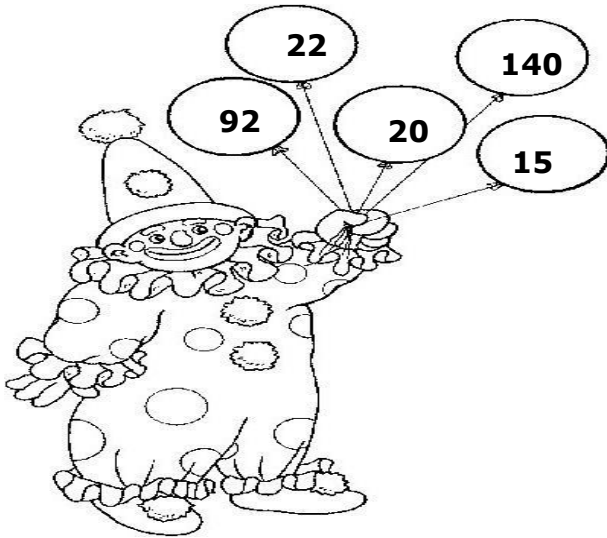


MATEMÁTICA
ATIVIDADES DE FIXAÇÃO - 1

1) Ajude o palhaço Cambalhota a colorir seus balões. Calcule mentalmente, escreva o resultado e pinte de acordo com a legenda abaixo.



→ Pinte de:

- a) **rosa** o resultado de 1 dezena e meia + 5 unidades = _____
- b) **amarelo** o resultado de 28 – meia dúzia = _____
- c) **azul** o resultado de 1 centena + 4 dezenas = _____
- d) **verde** o resultado de 25 - meia dezena = _____
- e) **vermelho** o resultado de 80 + 1 dúzia = _____

→ Desafio! Coloque os numerais dos balões em ordem decrecente.


_____ - _____ - _____ - _____ - _____

2) O mágico do circo fez uma magia e decompôs os numerais abaixo. Mostre que você é craque e faça a composição dos numerais.

- a) 1 centena + 4 dezenas + 9 unidades = _____
- b) 3 centenas + 8 dezenas = _____
- c) 9 dezenas + 7 unidades = _____
- d) 1 centena + 1 dezena + 5 unidades = _____



3) O malabarista Bolota está fazendo malabarismo com suas bolas. Coloque-as em ordem crescente.



Ordem crescente: _____ - _____ - _____ - _____ - _____.

4) O malabarista Bolota trabalha no circo Maravilha. Leia e resolva os problemas com atenção.

a) No circo Maravilha há 187 cadeiras, mas no último espetáculo 71 cadeiras quebraram. Quantas cadeiras estão em bom estado?

Cálculo	Resposta
	_____ _____ _____

b) No espetáculo de sábado foram vendidos 169 pacotes de pipocas e no de domingo foram vendidos 22 pacotes de pipoca. Quantos pacotes de pipocas foram vendidos ao todo?

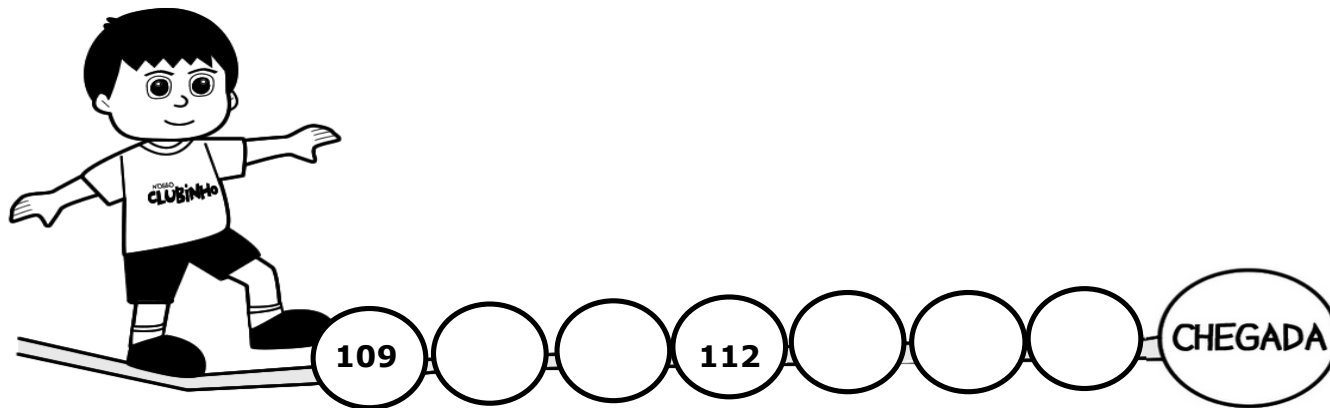


Cálculo	Resposta
	<hr/> <hr/> <hr/>

c) O palhaço Cambalhota tem 73 sapatos em sua coleção. Decidiu doar para outro circo 52 sapatos. Com quantos sapatos o palhaço Cambalhota ficou?

Cálculo	Resposta
	<hr/> <hr/> <hr/>

5) Complete com os numerais que estão faltando e ajude Pedro, o equilibrista do circo, a chegar ao final da corda.



6) Leia as imagens, observe a quantidade e complete com as palavras do quadro.

uma dúzia - meia dúzia - uma dezena - meia dezena

<p>Há na imagem acima _____ de palhaços.</p>	<p>Há _____ de bolinhas pretas na roupa do palhaço.</p>